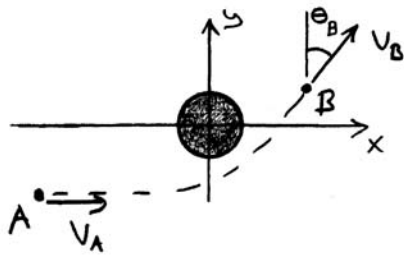
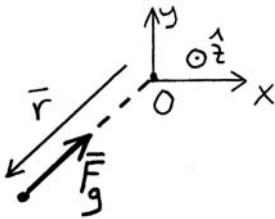


103)



Sökt: v_B

Frilägg farkosten vid godtyckligt läge:



$$\overline{M}_O \stackrel{(7.2)}{=} \overline{r} \times \overline{F}_g = \overline{0}$$

Impulsmomentlagen, (7.3), $\int_{t_A}^{t_B} \overline{M}_O dt = (\overline{h}_O)_B - (\overline{h}_O)_A$, \mathcal{O} fix \Rightarrow

$$(\overline{h}_O)_A = (\overline{h}_O)_B \quad (1)$$

$$(\overline{h}_O)_A \stackrel{(7.2)}{=} \overline{r}_A \times m\overline{v}_A = (x_A \hat{x} + y_A \hat{y}) \times mv_A \hat{x} = -my_A v_A \hat{z}$$

$$\begin{aligned} (\overline{h}_O)_B &= \overline{r}_B \times m\overline{v}_B = (x_B \hat{x} + y_B \hat{y}) \times mv_B (\sin \theta_B \hat{x} + \cos \theta_B \hat{y}) = \\ &= mv_B (x_B \cos \theta_B \hat{z} - y_B \sin \theta_B \hat{z}) \end{aligned}$$

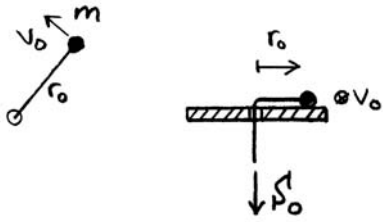
Insättning i (1) \Rightarrow

$$-y_A v_A = v_B (x_B \cos \theta_B - y_B \sin \theta_B) \Leftrightarrow$$

$$\underline{\underline{v_B = -\frac{y_A v_A}{x_B \cos \theta_B - y_B \sin \theta_B}}}$$

Dimensionen ok!

102)



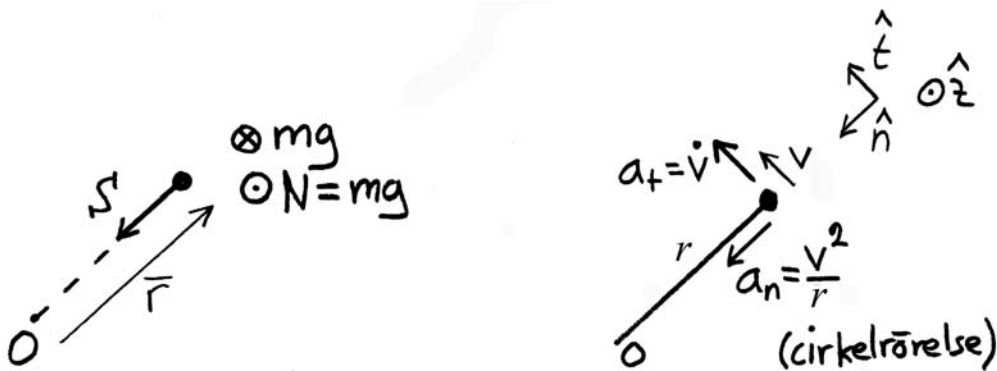
Uppifrån

från sidan

Givet: r_0 : v_0 och S_0

Sökt: v och S vid radien r .

Frilägg masspunkten vid godtycklig konstant radien r :



Eftersom masspunkten utför cirkelrörelse är det lämpligt att teckna accelerationen i den naturliga basen. Eftersom vi söker farten v och inte vinkelhastigheten $\dot{\theta}$, använder vi det allmänna uttrycket (1.14) i stället för (1.16).

N :s och mg :s bidrag till momentet \bar{M}_O tar ut varandra eftersom N och mg tar ut varandra. Snörkraftens bidrag till momentet blir också noll eftersom snörkraften pekar rakt in mot O .

Impulsmomentlagen, (7.3), $\int_{t_1}^{t_2} \bar{M}_O dt = (\bar{h}_O)_2 - (\bar{h}_O)_1$, O fix \Rightarrow

Vi tecknar impulsmomentlagen mellan tidpunkten t_1 då radien är r_0 , och tidpunkten t_2 då radien är r .

$$\bar{h}_O(r) = \bar{h}_O(r_0) \quad (1)$$

$$\bar{h}_O(r) \stackrel{(7.2)}{=} \bar{r} \times m\bar{v} = (-r \hat{n}) \times m(v \hat{t}) = mvr \hat{z}$$

$$\bar{h}_O(r_0) = mv_0 r_0 \hat{z}$$

Eftersom uttrycket för $\bar{h}_O(r)$ gäller för en godtycklig radie, är det bara att byta ut r mot r_0 och v mot v_0 för att få $\bar{h}_O(r_0)$.

Insättning i (1) \Rightarrow

$$rv = r_0 v_0 \quad \Leftrightarrow \quad \underline{\underline{v = \frac{r_0}{r} v_0}} \quad (2)$$

Newton II, (2.2), $\bar{F} = m\bar{a}$:

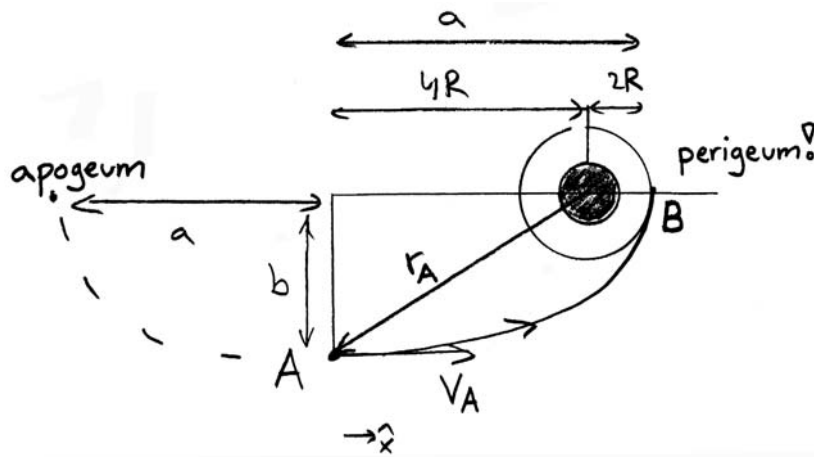
$$\hat{n}: \quad S = ma_n = \frac{mv^2}{r} \stackrel{(2)}{=} \frac{mr_0^2 v_0^2}{r^3}$$

På samma sätt $S_0 = \frac{mv_0^2}{r_0}$

$$\therefore \quad \underline{\underline{S = S_0 \left(\frac{r_0}{r}\right)^3}}$$

Dimensionen ok!

104)



Sökt: v_A så $v_B \uparrow$

$$v_A^2 \stackrel{(8.39)}{=} 2g_0 R^2 \left(\frac{1}{r_A} - \frac{1}{2a} \right) \quad (1)$$

$$\text{Figuren} \Rightarrow r_A = \sqrt{b^2 + (4R)^2} \quad (2)$$

$$b \stackrel{(8.30)}{=} a\sqrt{1-e^2} \quad (3)$$

Figuren $\Rightarrow r_{\min}$ vid \mathcal{B} , d.v.s. \mathcal{B} är perigeum.

Se sid. 172.

$$r_{\min} \stackrel{(8.31)}{=} a(1-e) = 2R$$

Figuren $\Rightarrow a = 6R$ (ty $v_A \rightarrow$ och $v_B \uparrow$)

$$\therefore 2R = 6R(1-e) \Leftrightarrow e = \frac{2}{3}$$

$e < 1$ ok ty ellipsbana.

$$\text{Insättning i (3)} \Rightarrow b = 6R\sqrt{1 - \frac{4}{9}} = 2\sqrt{5}R$$

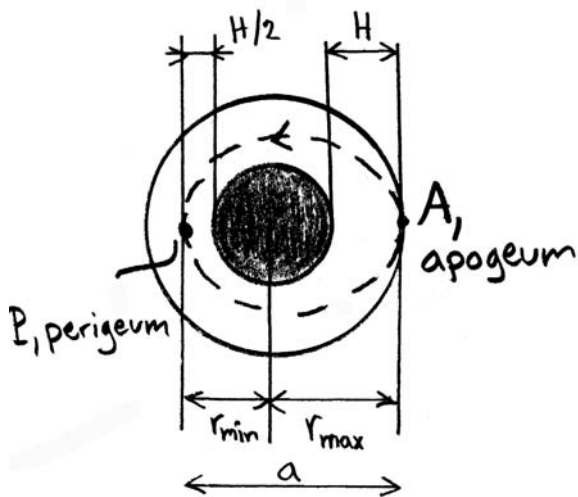
$$\text{Insättning i (2)} \Rightarrow r_{\mathcal{A}} = 6R$$

$$\text{Insättning i (1)} \Rightarrow v_{\mathcal{A}}^2 = \frac{g_0 R}{6} \Rightarrow$$

$$\underline{\underline{v_{\mathcal{A}} = \sqrt{\frac{g_0 R}{6}}}}$$

Dimensionen ok!

108)



Givet: $m = 1000 \text{ kg}$

$H = 6000 \text{ km}$

$F = 3000 \text{ N}$

Sökt: Brinntid t_*

v_{A_i} : fart vid \mathcal{A} precis innan bromsningen.

v_{A_e} : fart vid \mathcal{A} precis efter bromsningen.

Innan ($t=0$):

$\uparrow v_{A_i}$

Frilägg. under
bromsning ($0 \leq t \leq t_*$):

$\vec{F}_g \leftarrow \downarrow F \text{ (bromsar)}$

Efter ($t=t_*$):

$\uparrow v_{A_e}$

Enligt uppgiften är t_* så liten att $\vec{v}_{A_e} \parallel \vec{v}_{A_i}$.

Impulslagen, (4.1), $\int_0^{t_*} \vec{F} dt = \vec{p}(t = t_*) - \vec{p}(t = 0)$, $\vec{p} = m\vec{v}$:

$$\uparrow: -Ft_* = mv_{A_e} - mv_{A_i} \quad (1)$$

$$v_{A_i}^2 \stackrel{(8.39)}{=} 2g_0R^2 \left(\frac{1}{r_A} - \frac{1}{2a} \right) = \left/ \frac{r = R + H}{2a = 2(R + H)} \right/ =$$

Cirkelbana radie $R + H$.

$$= g_0R^2 \frac{1}{R + H}$$

$$v_{A_e}^2 = \left/ \begin{array}{l} r = R + H \\ 2a = r_{\min} + r_{\max} = 2R + H + \frac{H}{2} \end{array} \right/ =$$

$$= 2g_0 R^2 \left(\frac{1}{R + H} - \frac{1}{2R + \frac{3H}{2}} \right)$$

Insättning i (1) \Rightarrow

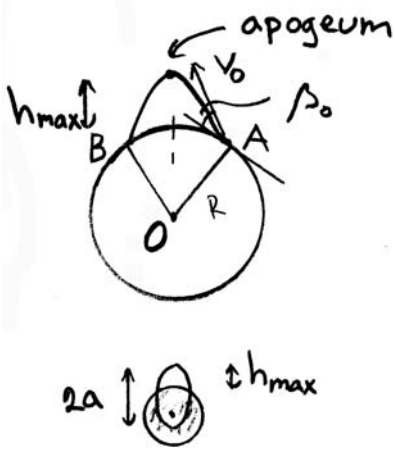
$$t_* = \frac{mR}{F} \left(\sqrt{\frac{g_0}{R + H}} - \sqrt{2g_0 \left(\frac{1}{R + H} - \frac{2}{4R + 3H} \right)} \right) = 135 \text{ s}$$

Dimensionen ok!

$m \uparrow \Rightarrow t_* \uparrow$ ok!

$F \uparrow \Rightarrow t_* \downarrow$ ok!

109)



Givet: $v_0 = 2000 \text{ m/s}$

$$\beta_0 = 40^\circ$$

Sökt: a, e, h_{\max}

$$h_{\max} = r_{\max} - R \quad (1)$$

$$r_{\max} \stackrel{(8.31)}{=} a(1 + e) \quad (2)$$

$a, e?$

Vid \mathcal{A} :

$$v_0^2 \stackrel{(8.39)}{=} 2g_0R^2 \left(\frac{1}{R} - \frac{1}{2a} \right) \Leftrightarrow$$

$$\underline{a} = \frac{1}{\frac{2}{R} - \frac{v_0^2}{g_0R^2}} = \underline{\underline{3291 \text{ km}}} \quad (3)$$

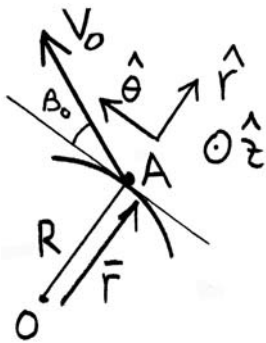
$$e \stackrel{(8.40)}{=} \sqrt{1 + \frac{2EH^2}{mg_0^2R^4}} \quad (4)$$

Total energi vid \mathcal{A} , E :

$$E = T + V_g \stackrel{(8.19)}{=} \frac{mv_0^2}{2} - \frac{mg_0 R^2}{R} = -6.06m \text{ MJ} \quad (5)$$

$E < 0$ ok ty ellipsbana.

$$H \stackrel{(8.35)}{=} \frac{|\bar{h}_O|}{m} \quad (6)$$



$$\bar{h}_O \stackrel{(7.2)}{=} \bar{r} \times m\bar{v} =$$

$$= R\hat{r} \times mv_0(\cos\beta_0\hat{\theta} + \sin\beta_0\hat{r}) = mv_0R\cos\beta_0\hat{z}$$

\bar{h}_O riktad i positiv \hat{z} -led, ok ty rör sig moturs runt O .

Insättning i (6) \Rightarrow

$$H = v_0R\cos\beta_0 = 9.76 \cdot 10^9 \text{ m}^2/\text{s} \quad (7)$$

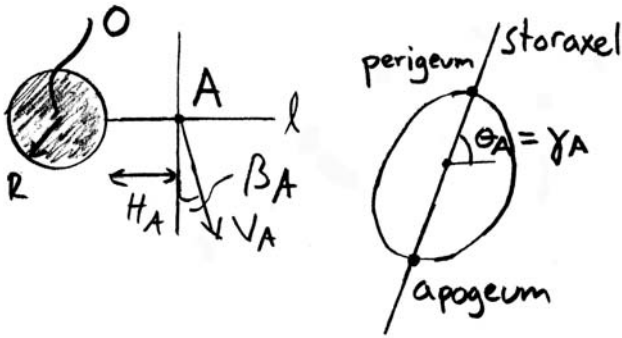
$$\text{Insättning av (5) och (7) i (4)} \Rightarrow \underline{\underline{e = 0.963}}$$

$e < 1$ ok ty ellipsbana.

$$\text{Insättning i (2)} \Rightarrow r_{\max} = 6460 \text{ km}$$

$$\text{Insättning i (1)} \Rightarrow \underline{\underline{h_{\max} = 88.6 \text{ km}}}$$

110)



Givet: $v_A = 7500 \text{ m/s}$

$$\beta_A = 2^\circ$$

$$H = 1000 \text{ km}$$

Sökt: $2a$, e , γ_A , krockar med jorden?

$$v_A^2 \stackrel{(8.39)}{=} 2g_0R^2 \left(\frac{1}{R + H_A} - \frac{1}{2a} \right) \Leftrightarrow$$

$$2a = \frac{1}{\frac{1}{R + H_A} - \frac{v_A^2}{2g_0R^2}} = 15360 \text{ km} \quad (1)$$

e ?

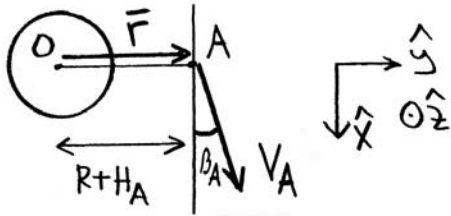
$$e \stackrel{(8.40)}{=} \sqrt{1 + \frac{2EH^2}{mg_0^2R^4}} \quad (2)$$

Total energi vid \mathcal{A} , E :

$$E = T + V_g \stackrel{(8.19)}{=} \frac{mv_A^2}{2} - \frac{mg_0R^2}{R + h_A} = -25.956m \text{ MJ} \quad (3)$$

$E < 0$ ok ty ellipsbana.

$$H \stackrel{(8.35)}{=} \frac{|\bar{h}_O|}{m} \quad (4)$$



$$\bar{h}_O \stackrel{(7.2)}{=} \bar{r} \times m\bar{v} =$$

$$= (R+H_A) \hat{y} \times mv_A (\cos \beta_A \hat{x} + \sin \beta_A \hat{y}) =$$

$$= -mv_A (R+H_A) \cos \beta_A \hat{z}$$

\bar{h}_O riktad i negativ \hat{z} -led, ok ty rör sig medurs runt O .

Insättning i (4) \Rightarrow

$$H = v_A (R+H_A) \cos \beta_A = 5.52 \cdot 10^{10} \text{ m}^2/\text{s} \quad (5)$$

$$\text{Insättning av (3) och (5) i (2)} \Rightarrow \underline{\underline{e = 0.053}}$$

$e < 1$ ok ty ellipsbana.

$$\gamma_A = \theta_A \quad (2)$$

Ty θ för ellipsbanan mäts alltid från perigeum.

θ_A ?

Ellipsbanans ekvation:

$$r_A \stackrel{(8.29)}{=} \frac{a(1-e^2)}{1+e \cos \theta_A} = R + H_A \Leftrightarrow$$

$$\cos \theta_A = \frac{1}{e} \left(\frac{a(1 - e^2)}{R + H_A} - 1 \right) \Rightarrow$$

$$\underline{\underline{\gamma_A}} = \theta_A = \underline{\underline{43.0^\circ}}$$

Träffar jorden om $r_{\min} < R$:

$$r_{\min} \stackrel{(8.31)}{=} a(1 - e) = 7271 \text{ km} > R$$

\therefore Träffar inte jorden.